

20.12.14

Μαθηματικά Των Υπολογιστών Φροντιστήριο 50

Μέθοδοι απόδειξης στον προτασιακό λογισμό

- 1) Μέθοδος Πινάκων αληθείας
- 2) Μέθοδος της επαγωγής αναδρομής
- 3) Μέθοδος των αξιωμάτων
- 4) Μέθοδος της αρχής απόφασης
- 5) Μέθοδος των δένδρων αληθείας

• Αρχή της Απόφασης (Resolution principle - Αρχή του Robinson)

Κεντρικές ιδέες:

✓ Από τις προτάσεις $\alpha \vee \beta$ και $\neg \alpha \wedge \gamma$ προκύπτει ως συμπέρασμα η πρόταση $\beta \wedge \gamma$.

✓ Η αρχή της απόφασης είναι μία μέθοδος εις άτοπον απαγωγής.

Άσκηση 1

Αν δεχτούμε ότι ισχύουν οι παρακάτω προτάσεις, να αποδείξει ότι θα ισχύει η πρόταση "θα δω οπωσδήποτε την ταινία"

α) Αν έχω TV και δεν είμαι απασχολημένος, θα δω την ταινία.

β) Αν έχω video και είμαι απασχολημένος, θα γράψω την ταινία.

γ) Αν γράψω τη ταινία, θα τη δω.

δ) Έχω TV

ε) Έχω video.

Θεωρούμε τις εξής προτάσεις:

p: θα δω την ταινία

q: Έχω TV

r: είμαι απασχολημένος

s: θα γράψω την ταινία

t: Έχω video.

Εκφράζουμε τις προτάσεις α), β), γ), δ), ε) στη γλώσσα του Προτασιακού Λογισμού:

$$a) (q \wedge \neg r) \rightarrow p$$

$$b) (t \wedge r) \rightarrow s$$

$$c) s \rightarrow p$$

$$d) q$$

$$e) t$$

Στο πρόβλημα ζητείται να δείξει ότι

$$\Sigma = \{(q \wedge \neg r) \rightarrow p, (t \wedge r) \rightarrow s, s \rightarrow p, q, t\} \vdash p$$

Για να εφαρμόσουμε την αρχή της απόφασης πρέπει να γράψουμε τις προτάσεις του Σ σε μορφή CNF (και να τις διασπάσουμε αν χρειάζεται).

$$q \wedge \neg r \rightarrow p \equiv \neg(q \wedge \neg r) \vee p \equiv \neg q \vee r \vee p$$

$$\text{Υπενθύμιση: } a \rightarrow b \equiv \neg a \vee b$$

$$\text{Υπενθύμιση: } \neg(a \wedge b) \equiv \neg a \vee \neg b$$

$$(t \wedge r) \rightarrow s \equiv \neg(t \wedge r) \vee s \equiv \neg t \vee \neg r \vee s$$

$$s \rightarrow p \equiv \neg s \vee p$$

$$q, t \text{ [ax]}$$

Στη συνέχεια, θεωρούμε την άρνηση της αποδεικτέας:

$\neg p$. (Δεν χρειάζεται να την γράψω σε άλλη μορφή, είναι ήδη στη μορφή που μας ενδιαφέρει.)

Έπειτα, εφαρμόζουμε επαναληπτικά την αρχή της απόφασης μέχρι να καταλήξουμε σε αντίφαση.

$$① \neg q \vee r \vee p$$

$$② \neg t \vee \neg r \vee s$$

$$③ \neg s \vee p$$

$$④ q$$

⑤⁺

⑥ $\neg p$

①, ⑥ $\Rightarrow \neg q \vee r$ ⑦

④, ⑦ $\Rightarrow r$ ⑧

②, ⑧ $\Rightarrow \neg t \vee s$ ⑨

⑤, ⑨ $\Rightarrow s$ ⑩

③, ⑩ $\Rightarrow p$ ⑪

⑥, ⑪ \Rightarrow αντίφαση

δηλαδή, προκύπτει ότι από τις προτάσεις του Σ , έπεται η πρόταση p .

Άσκηση 2

Να δείξει με τη βοήθεια της αρχής της απόφασης ότι

$$\Sigma = \{ p \rightarrow (q \vee s), \neg s \vee r, \neg r \vee p, \neg r \vee s, \neg q \vee r \} \vdash p \rightarrow (s \wedge r)$$

Οι προτάσεις του Σ είναι στην επιθυμητή μορφή εκτός από την πρόταση $p \rightarrow (q \vee s) \equiv \neg p \vee q \vee s$

Η άρνηση της αποδεικτέας είναι

$$\neg(p \rightarrow (s \wedge r)) \equiv \neg(\neg p \vee (s \wedge r)) \equiv p \wedge \neg(s \wedge r) \equiv p \wedge (\neg s \vee \neg r)$$

Διορθώστε την πρόταση στις προτάσεις: $p, \neg s \vee \neg r$

① $\neg p \vee q \vee s$

② $\neg s \vee r$

③ $\neg r \vee p$

④ $\neg r \vee s$

⑤ $\neg q \vee r$

⑥ p

⑦ $\neg s \vee \neg r$

①, ⑥ $\Rightarrow q \vee s$ ⑧

- ⑧, ⑦ \Rightarrow $q \vee \neg r$ ⑨
- ⑨, ② \Rightarrow $q \vee \neg s$ ⑩
- ⑩, ⑧ \Rightarrow q ⑪
- ⑪, ⑤ \Rightarrow r ⑫
- ④, ⑦ \Rightarrow $\neg r$ ⑬
- ⑫, ⑬ \Rightarrow αντίφαση

Άρα, ισχύει $\Sigma \vdash p \rightarrow (s \wedge r)$

Παρατηρήσεις:

1. Αν το Σ είναι ανεπιφασικό, τότε $\Sigma \vdash \phi$ για κάθε πρόταση ϕ .
 $\Sigma = \{p, \neg p, \dots\} \vdash \phi$

Προσοχή!

2. Από τις προτάσεις $\neg r \vee q$ και $p \vee \neg q$ δεν βγαίνει κανένα χρήσιμο συμπέρασμα. Συγκεκριμένα, από τις προτάσεις προκύπτει ταυτολογία

Άσκηση 3

Πως φτιάχνουμε ασκήσεις για την αρχή της απόφασης.

Διαλέγουμε πέντε άτομα θα εμφανίζονται
 π.χ. p, q, r, s, t .

Γράφουμε στην "τύχη" μία αλυσίδα από συνειπταγωγές που το δεύτερο μέλος της κάθε βίας είναι πρώτο μέλος της επόμενης!

- π.χ. $p \rightarrow (q \vee \neg s)$
- $(q \vee \neg s) \rightarrow t$
- $t \rightarrow (s \wedge r)$
- $(s \wedge r) \rightarrow \neg q$

Τότε προφανώς θα ισχύει ότι από αυτές τις συνειπταγωγές προκύπτει η συνειπταγωγή $p \rightarrow (\neg q)$

Στη συνέχεια, "φτιάχνουμε" τις συνειπταγωγές μετασχηματίζοντας τις σε ισοδύναμες προτάσεις και τις "ανακατεύουμε"

$$p \rightarrow (q \vee \neg s)$$

$$(q \vee \neg s) \rightarrow t \equiv \neg(q \vee \neg s) \vee t \equiv (\neg q \wedge s) \vee t \equiv (\neg q \vee t) \wedge (s \vee t)$$
$$\neg q \vee t, s \vee t$$

$$t \rightarrow (s \wedge r) \equiv \neg t \vee (s \wedge r) \equiv (\neg t \vee s) \wedge (\neg t \vee r)$$
$$\neg t \vee s, \neg t \vee r$$

$$(s \wedge r) \rightarrow tvq \equiv \neg(s \wedge r) \vee tvq \equiv \neg s \vee \neg r \vee tvq$$

Άρα, η άσκηση θα είναι: Να δείξει ότι:

$$\Sigma = \{ p \rightarrow (q \vee \neg s), \neg t \vee r, \neg t \vee \neg r \vee tvq, \neg t \vee s, s \vee t, \neg q \vee t \} \vdash p \rightarrow (tvq)$$

Θα γράψουμε όλες τις προτάσεις σε μορφή CNF

$$p \rightarrow (q \vee \neg s) \equiv \neg p \vee q \vee \neg s \quad \textcircled{1}$$

Θεωρούμε την άρνηση της αποδεικτέας

$$\neg(p \rightarrow (tvq)) \equiv \neg(\neg p \vee tvq) \equiv p \wedge \neg tvq$$
$$p, \neg t, \neg q$$

$$\textcircled{2}, \textcircled{1} \Rightarrow q \vee \neg s \quad \textcircled{10}$$

$$\textcircled{10}, \textcircled{4} \Rightarrow \neg s \quad \textcircled{11}$$

$$\textcircled{7}, \textcircled{8} \Rightarrow s \quad \textcircled{12}$$

Άρα, από $\textcircled{11}, \textcircled{12} \Rightarrow$ αντίφαση

Επομένως, ισχύει το ζητούμενο.

Άσκηση 4

Για τα ζώα ενός επιτίσιου ισχύουν οι εξής προτάσεις:



- 1 Τα μοναδικά ζώα για αυτό το επιτίσι είναι γάτες.
- 2 Κάθε ζώο που απολαμβάνει να κοιτάει το φεγγάρι είναι κατ'ήλθο για κατοικίδιο.
- 3 Όταν απειθαδω ένα ζώο το αποφεύγω.
- 4 Καμένα ζώα δεν είναι καρκοφάγο, εκτός αν κυνηγήσει το θράδι.
- 5 Οι γάτες σκοτώνουν τα ποντίκια.

- Ⓔ) Καθένα ζώο δεν μου βιάζει, εκτός από αυτά που είναι β' αυτό το σπίτι.
- Ⓕ) Τα καγκουρό είναι ακατάλληλα για κατοικίδια.
- Ⓖ) Μόνο τα εαρκοφάγα σκοτώνουν ποντίκια
- Ⓗ) Αντιπασώ τα ζώα που δεν μου βιάνε
- Ⓖ) Τα ζώα που κινηθάνε το θράδυ, απολαμβάνουν πάντα να κοιτάνε το φεγγάρι.

Ζητείται, το τελικό συμπέρασμα που προκύπτει και από τις 10 προτάσεις.

Μέθοδος Των Δένδρων Αληθείας (Μέθοδος των Tableaux).

Χρησιμοποιεί τους παρακάτω συμπέρασματικούς κανόνες:



Είναι παραλλαγή της μεθόδου εις άτοπον απαγωγής.

Άσκηση 5

Να εξετασθεί με χρήση δένδρων αληθείας αν ισχύει κάθε ένα από τα παρακάτω

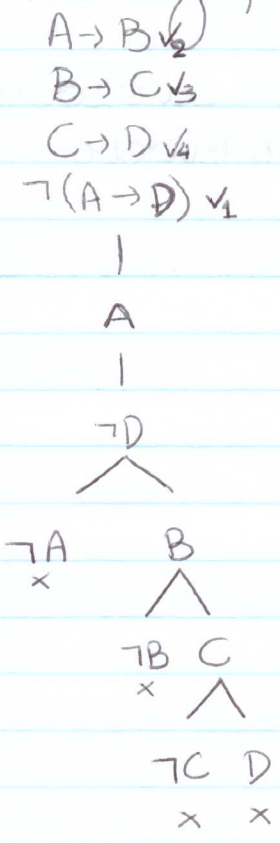
α) $\{A \rightarrow B, B \rightarrow C, C \rightarrow D\} \vdash A \rightarrow D$

Για να εφαρμόσουμε τη μέθοδο των δένδρων αληθείας θεωρούμε τις προτάσεις του Σ καθώς και την άρνηση της αποδεικτέας:

$$(A \rightarrow B) \wedge (B \rightarrow C) \wedge (C \rightarrow D) \wedge (\neg(A \rightarrow D))$$

Θα ελέγχαμε αν η παραπάνω πρόταση είναι αντίφαση ή όχι.

Κατασκευάζουμε το δένδρο αληθείας ως εξής:



Άρα, η πρόταση αυτή είναι αντίφαση, δηλαδή ισχύει το εσπτεράρα $\Sigma \vdash A \rightarrow D$

Άσκηση 6

Να δείξει με τη βοήθεια δένδρων αληθείας ότι η πρόταση $p \vee (q \wedge r) \rightarrow (p \vee q) \wedge (p \vee r)$ είναι ταυτολογία.

$$\begin{array}{c}
 p \vee (q \wedge r) \\
 \neg((p \vee q) \wedge (p \vee r))
 \end{array}$$



Βασικές Ισοδυναμίες Κατηγορηματικού Λογισμού

- | | |
|---|----------------------------------------------------------------|
| 1 | $\neg(\forall x)\phi \equiv (\exists x)(\neg\phi)$ |
| 2 | $\neg(\exists x)\phi \equiv (\forall x)(\neg\phi)$ |
| 3 | $(\forall x)(\forall y)\phi \equiv (\forall y)(\forall x)\phi$ |
| 4 | $(\exists x)(\forall y)\phi \equiv (\forall y)(\exists x)\phi$ |
| 5 | $(\exists x)(\exists y)\phi \equiv (\exists y)(\exists x)\phi$ |

Άσκηση 8

Μια ακολουθία (a_n) συγκλίνει στο $a \in \mathbb{R}$, αν και μόνο αν για κάθε $\varepsilon > 0$ υπάρχει το ελάχιστον ένα $n_0 \in \mathbb{N}$ με $|a_n - a| < \varepsilon$ για κάθε $n \geq n_0$.

Να δοθεί ο ορισμός για το πότε μία ακολουθία (a_n) δεν συγκλίνει στο \mathbb{R} .

Πρώτα θα εκφράσουμε τον ορισμό της σύγκλισης ακολουθίας με ποσοδείκτες.

$$a_n \rightarrow a \Leftrightarrow (\forall \varepsilon > 0) (\exists n_0) (\forall n) (n \geq n_0 \rightarrow |a_n - a| < \varepsilon)$$

Για να βρούμε πότε δεν συγκλίνει στον αριθμό a θα χρησιμοποιήσουμε τις ισοδυναμίες 1, 2 (και αυτές που μπηρίψουμε από τον προτασιακό λογισμό).

$$\begin{aligned}
 a_n \not\rightarrow a \Leftrightarrow & \neg (\forall \varepsilon > 0) (\exists n_0) (\forall n) (n \geq n_0 \rightarrow |a_n - a| < \varepsilon) \\
 \Leftrightarrow & (\exists \varepsilon > 0) \neg (\exists n_0) (\forall n) (n \geq n_0 \rightarrow |a_n - a| < \varepsilon) \\
 \Leftrightarrow & (\exists \varepsilon > 0) (\forall n_0) (\forall n) (n \geq n_0 \rightarrow |a_n - a| < \varepsilon) \\
 \Leftrightarrow & (\exists \varepsilon > 0) (\forall n_0) (\exists n) (\neg (n \geq n_0 \rightarrow |a_n - a| < \varepsilon)) \\
 \Leftrightarrow & (\exists \varepsilon > 0) (\forall n_0) (\exists n) (n \geq n_0 \wedge |a_n - a| \geq \varepsilon) \\
 \Leftrightarrow & (\exists \varepsilon > 0) (\forall n_0) (\exists n) (n \geq n_0 \wedge |a_n - a| \geq \varepsilon)
 \end{aligned}$$

Συμπέρασμα, η a_n δεν συγκλίνει στον $a \in \mathbb{R}$, όταν υπάρχει

$\epsilon > 0$, τέτοιο ώστε για κάθε $n \in \mathbb{N}$ να υπάρχει $m \in \mathbb{N}$ με $n \geq m$ και $|a_m - a| \geq \epsilon$

Οριβός

Τι είναι οριβός;

Χαρακτηριστικά οριβού

1) Όχι το άγνωστο δια του αγνώστου.
Ελεύθερος σημαίνει αδέσμευτος

2) Όχι κόλας

Δεδία είναι η ελλειψη θάρρας

Ελλειψη θάρρας είναι ο κατακλικτος φόβος στον κίνδυνο
Ακατακλικτος φόβος είναι δεδία

3) Ούτε πλάιότερος, ούτε στενότερος

Αθηναίος είναι όποιος κατοικεί στη λαρία (στενότερος)

Αθηναίος είναι όποιος κατοικεί στην άστερα Ελλάδα (πλάιότερος).

Τι είναι Δημοκρατία;

